

Question 1

Ecris ce nombre en lettres.

145 064

Question 2

Ecris ce nombre en chiffres.

Deux-millions-quatre-cent-cinquante-mille-trois-cent-douze


Question 3

Quel est ce nombre ?

$(5 \times 100\,000) + (9 \times 1\,000) + (7 \times 10)$

Question 4

Quelle est la fraction représentée par la partie noire ?



Question 5

Ecris le nombre le plus petit des 2.

$17\,450 / 1\,898$

$87,5 / 8,75$

$6,3 / 6,25$

Question 6

Ecris le résultat de ces calculs.

$8 + 7 =$  /  $8 \times 8 =$

$6 \times 4 =$  /  $142 \times 100 =$

Question 7

Pose et calcule.

$145,67 + 12,9$

Question 8

Pose et calcule.

$415 - 253,2 =$

Question 9

Pose et calcule.

$451 \times 36 =$

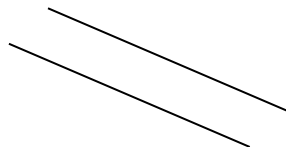
Question 10

Pose et calcule.

$126 : 5$


Question 11

Comment sont ces deux droites ?




Question 12

Quel est le nom et le périmètre de cette figure ?



Question 13

Combien de temps s'est  
écoulé entre ces deux  
pendules ?



Question 14

Eva achète 350 g de  
framboises et des  
fraises. Quel est le poids  
des fraises, sachant  
qu'elle a acheté 1kg de  
fruits en tout ?

Question 15

Quel est le verbe dans  
cette phrase?

Autrefois, les voyageurs  
prenaient souvent le  
train

Question 16

Dans cette phrase, trouve  
un nom féminin, un adject-  
tif qualificatif et un déter-  
minant.

Tu allumes une grosse  
bougie car il fait sombre.

Question 17

Recopie la phrase, sou-  
ligne le sujet en bleu et le  
complément du verbe en  
vert.

La lionne et ses petits  
chassent une gazelle.

Question 18

Complète avec le pro-  
nom qui convient.

..... chantait

..... arriveront

..... mangeons

Question 19

Ecris au pluriel.

Le gentil voisin.

Ecris au féminin.

Un chien noir.

Question 20

Ecris en mettant le  
sujet au pluriel.

Le petit bateau  
rentre au port.

Question 21

Ecris une phrase négative  
à partir de ces dessins.



Question 22

Ecris une question à par-  
tir de ce dessin.



Question 23

Conjugué aux temps de-  
mandés.

Présent : Tu (regarder)

Imparfait : Vous (être)

Futur : Je (dire)

Question 24

A quel temps sont con-  
jugués ces verbes ?

1. Nous aimons

2. Il prend

3. Elle a aimé

Question 25

Recopie avec la proposition qui convient.

(Ce/Se) matin, il (est/et)  
allé (a/à) l'école avec  
(son/sont) vélo (vert/  
vers).

Question 26

Trouve un synonyme  
pour les mots suivants.

Grand  
Joyeux  
Voiture

Question 27

Trouve un contraire  
pour les mots suivants.

Possible  
Heureux  
Assombrir

Question 28

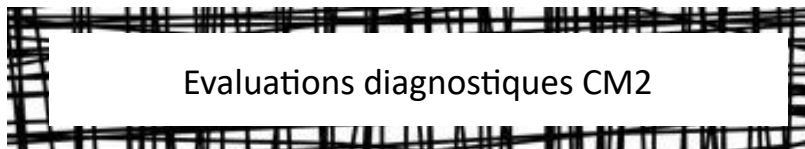
Ecris une phrase où le  
mot souligné a un autre  
sens.

Lilou regarde un film  
sur sa tablette.

Prénom: .....

Note tes réponses  
vant.

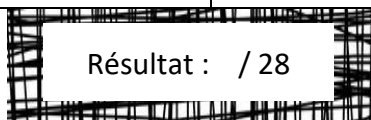
.....



Evaluations diagnostiques CM2

ans le tableau sui-

n°1 : .....	n°2 : .....
n°3 : .....	n°4 : .....
n°5 : .....	n°6 : .....
n°7 : .....	n°8 : .....
n°9 : .....	n°10 : .....
n°11 : .....	n°12 : .....
n°13 : .....	n°14 : .....
n°15 : .....	n°16 : .....
n°17 : .....	n°18 : .....
n°19 : .....	n°20 : .....
n°21 : .....	n°22 : .....
n°23 : .....	n°24 : .....
n°25 : .....	n°26 : .....
n°27 : .....	n°28 : .....



Résultat : / 28