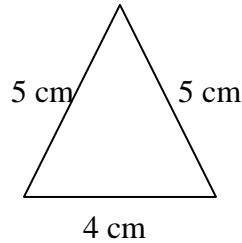


NIVEAU 1

Un carré mesure 6 cm de côté.
Quel est son périmètre ?

Quel est le périmètre de cette figure ?



Un carré mesure 4,5 m de côté.
Quel est son périmètre ?

14 cm

Un rectangle mesure 6 cm de long et 3 cm de large.
Quel est son périmètre ?

Un carré mesure 10 cm de côté.
Quel est son périmètre ?

Un carré mesure 36 cm de périmètre.
Combien mesure son côté ?

9 cm

Un carré mesure 200 m de périmètre.
Combien mesure son côté ?

Un carré mesure 20,7 cm de côté.
Quel est son périmètre ?

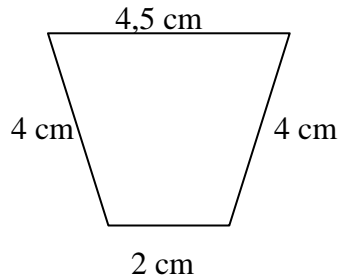
Un triangle équilatéral mesure 5,3 cm de côté.
Quel est son périmètre ?

50 m

NIVEAU 1

Un carré mesure 8 cm de côté.
Quel est son périmètre ?

Quel est le périmètre de cette figure ?



Un losange mesure 10 mm de côté.
Quel est son périmètre ?

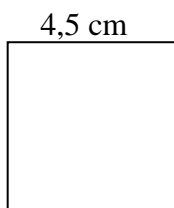
14,5 cm

Un rectangle mesure 5 cm de long et 2,5 cm de large.
Quel est son périmètre ?

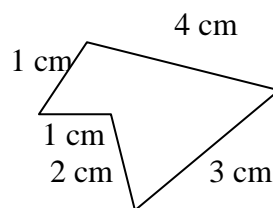
Un losange mesure 12 cm de côté.
Quel est son périmètre ?

La cour d'une école a la forme d'un carré de 27 m de côté. Combien parcourt un élève lorsqu'il fait le tour de la cour ?

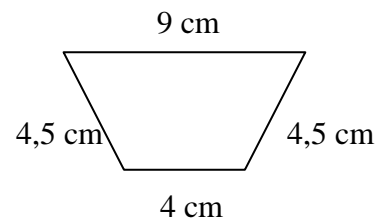
Quel est le périmètre de cette figure ?



Quel est le périmètre de cette figure ?



Quel est le périmètre de cette figure ?



18 cm

11 cm

22 cm

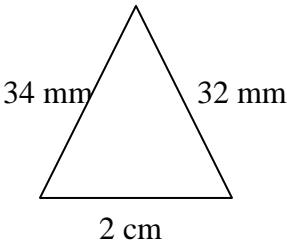
NIVEAU 1

<p>Un triangle équilatéral mesure 9 cm de périmètre. Combien mesure un côté ?</p>	<p>Un triangle équilatéral mesure 36 cm de périmètre. Combien mesure un côté ?</p>	<p>Un rectangle mesure 30 cm de long. Son périmètre est de 90 cm. Combien mesure sa largeur ?</p>
<p>Un hexagone régulier mesure 5 dm de côté. Quel est son périmètre ?</p>	<p>Un hexagone régulier mesure 2,5 cm de côté. Quel est son périmètre ?</p>	<p>Un hexagone régulier mesure 36 cm de périmètre. Combien mesure un côté ?</p>
<p>Un rectangle mesure 7 m de long. Son périmètre est de 20 m Combien mesure sa largeur ?</p>	<p>Un jardin mesure 20 m de long et 16 m de large. Quel est son périmètre ?</p>	<p>Un rectangle mesure 24 cm de long et 18 cm de large. Quel est son périmètre ?</p>

NIVEAU 1

<p>Un carré mesure 44 cm de périmètre. Combien mesure son côté ?</p> <p style="text-align: right;">11 cm</p>	<p>Un losange mesure 16 cm de périmètre. Combien mesure son côté ?</p> <p style="text-align: right;">4 cm</p>	<p>Un carré mesure 32 cm de périmètre. Combien mesure son côté ?</p> <p style="text-align: right;">8 cm</p>
<p>Un rectangle mesure 10 cm de long. Son périmètre est de 36 cm. Combien mesure sa largeur ?</p>	<p>Un rectangle mesure 5 cm de long et 3 cm de large. Quel est son périmètre ?</p>	<p>Un carré mesure 30 cm de côté. Quel est son périmètre ?</p>

NIVEAU 2

<p>Un rectangle mesure 30 dm de long et 2 m de large. Quel est en mètres, son périmètre ?</p> <p style="text-align: right;">10 cm</p>	<p>Quel est en centimètres, le périmètre de cette figure ?</p>  <p style="text-align: right;">8,6 cm</p>	<p>Un rectangle mesure 8,7 cm de long et 32 mm de large. Quel est en centimètres, son périmètre ?</p> <p style="text-align: right;">23,8 cm</p>
<p>Un carré mesure 22 cm de périmètre. Combien mesure son côté ?</p> <p style="text-align: right;">5,5 cm</p>	<p>Un rectangle mesure 95 m de long et 5 dam de large. Quel est en décamètres, son périmètre ?</p>	<p>Un triangle équilatéral mesure 21,6 dm de périmètre. Combien mesure un côté ?</p>
<p>Un hexagone régulier mesure 21 cm de périmètre. Combien mesure un côté ?</p>	<p>Un rectangle mesure 20 cm de large. Son périmètre est de 85 cm. Combien mesure sa longueur ?</p>	<p>Un rectangle mesure 46 mm de long. Son périmètre est de 14 cm. Combien mesure sa largeur en centimètres ?</p>

<p>Un cercle a un diamètre de 2 m. Quel est son périmètre ?</p>	<p>Un cercle a un diamètre de 21 cm. Quel est son périmètre ?</p>	<p>Un cercle a un périmètre de 31,4 cm Combien mesure son rayon ?</p>
<p>Un cercle a un périmètre de 314 mm Combien mesure son diamètre ?</p>	<p>Papa veut fabriquer un cadre rectangulaire de 40 cm de long et 30 cm de large avec une baguette de bois valant 4 € le mètre. Combien va-t-il dépenser ?</p>	<p>Dans un zoo, un loup dispose d'une cour carrée dont il fait trois fois le tour toutes les 10 minutes. Le côté de cette cour est de 13,50 m. Quelle est la distance parcourue par le loup en 1 heure ?</p>
<p>Mamie a acheté une nappe carrée d'une valeur de 30 € et l'a entourée d'un gazon coûtant 1 € le mètre. Elle a payé 42 € en tout. Quelle est la mesure du côté de la nappe.</p>	<p>On veut entourer de grillage un puits circulaire de 1,15 m de rayon. Quelle longueur de grillage faudra-t-il acheter ?</p>	<p>Madame Chouette remplace le gazon sur les deux cercles de son abat-jour qui mesurent respectivement 30 cm et 35 cm de diamètre. Quelle sera la longueur de gazon nécessaire ?</p>

<p>Un cercle a un diamètre de 2 m. Quel est son périmètre ?</p>	<p>Un cercle a un diamètre de 21 cm. Quel est son périmètre ?</p>	<p>Un cercle a un périmètre de 31,4 cm Combien mesure son rayon ?</p>
<p>Un cercle a un périmètre de 314 mm Combien mesure son diamètre ?</p>	<p>Papa veut fabriquer un cadre rectangulaire de 40 cm de long et 30 cm de large avec une baguette de bois valant 4 € le mètre. Combien va-t-il dépenser ?</p>	<p>Dans un zoo, un loup dispose d'une cour carrée dont il fait trois fois le tour toutes les 10 minutes. Le côté de cette cour est de 13,50 m. Quelle est la distance parcourue par le loup en 1 heure ?</p>
<p>Mamie a acheté une nappe carrée d'une valeur de 30 € et l'a entourée d'un gazon coûtant 1 € le mètre. Elle a payé 42 € en tout. Quelle est la mesure du côté de la nappe.</p>	<p>On veut entourer de grillage un puits circulaire de 1,15 m de rayon. Quelle longueur de grillage faudra-t-il acheter ?</p>	<p>Madame Chouette remplace le gazon sur les deux cercles de son abat-jour qui mesurent respectivement 30 cm et 35 cm de diamètre. Quelle sera la longueur de gazon nécessaire ?</p>

NIVEAU 2

Un cercle a un rayon de 5 cm. Quel est son périmètre ?

31,4 cm

Un cercle a un diamètre de 3 cm. Quel est son périmètre ?

Un cercle a un rayon de 3 cm. Quel est son périmètre ?

18,84 cm

Un rectangle mesure 100 dm de long. Son périmètre est de 30 m. Combien mesure sa largeur en décimètres ?

14 dm


Un rectangle mesure 50 cm de long et 2 dm de large. Quel est en décimètres, son périmètre ?

Un cercle a un rayon de 6,2 cm. Quel est son périmètre ?

37,7 cm


DOS CARTES QUESTIONS

LE JEU DES MOUTONS




NIVEAU 1

LE JEU DES MOUTONS




NIVEAU 1

LE JEU DES MOUTONS




NIVEAU 1

LE JEU DES MOUTONS




NIVEAU 1

LE JEU DES MOUTONS




NIVEAU 1

LE JEU DES MOUTONS




NIVEAU 1

LE JEU DES MOUTONS




NIVEAU 1

LE JEU DES MOUTONS



NIVEAU 1


LE JEU DES MOUTONS



NIVEAU 1


DOS CARTES QUESTIONS

LE JEU DES MOUTONS




NIVEAU 2

LE JEU DES MOUTONS




NIVEAU 2

LE JEU DES MOUTONS




NIVEAU 2

LE JEU DES MOUTONS




NIVEAU 2

LE JEU DES MOUTONS




NIVEAU 2

LE JEU DES MOUTONS




NIVEAU 2

LE JEU DES MOUTONS




NIVEAU 2

LE JEU DES MOUTONS



NIVEAU 2

LE JEU DES MOUTONS



NIVEAU 2

